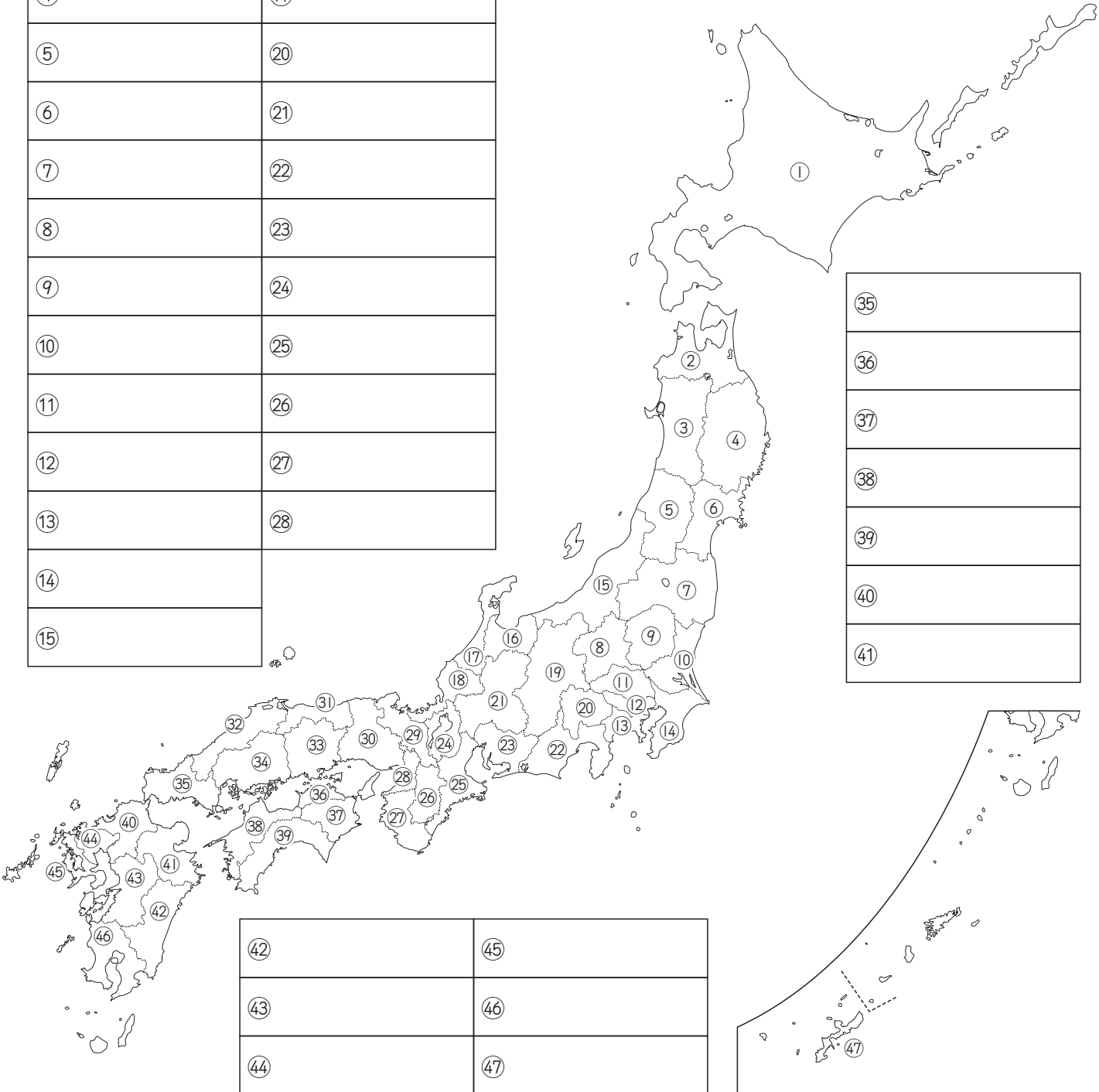


問題 1

つぎ とどうふけん
 次の地図中の①～④7の都道府県名を答えなさい。

①	①6	②9	③2
②	①7	③0	③3
③	①8	③1	③4
④	①9		
⑤	②0		
⑥	②1		
⑦	②2		
⑧	②3		
⑨	②4		
⑩	②5		
⑪	②6		
⑫	②7		
⑬	②8		
⑭			
⑮			

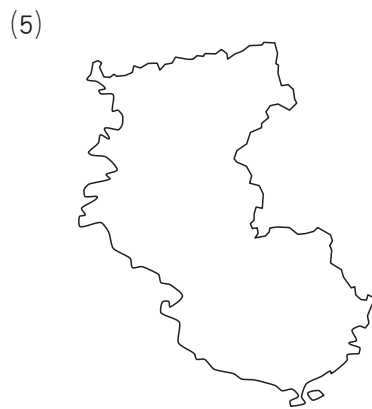
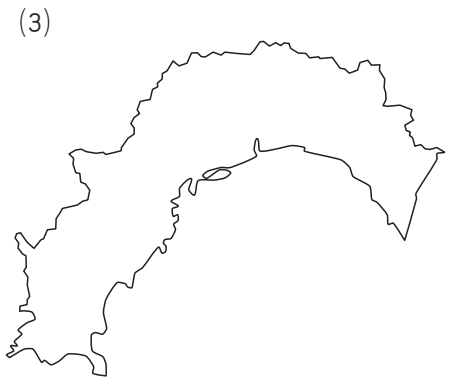
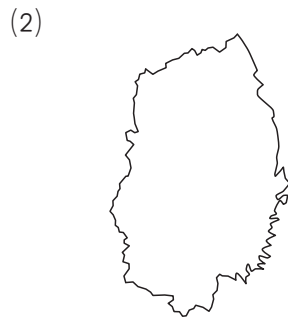
③5
③6
③7
③8
③9
④0
④1



④2	④5
④3	④6
④4	④7

問題2

つぎ
次の(1)～(6)の地図は、47の都道府県のどれかのもので、それぞれの都道府県名を
かん
漢字で答えなさい。



(1)		(2)		(3)	
(4)		(5)		(6)	

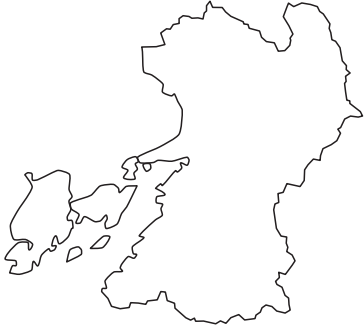
問題3 答え

- (1) 熊本県 (2) 埼玉県 (3) 茨城県
(4) 鳥取県 (5) 群馬県 (6) 福井県

問題3

つぎ
次の(1)~(6)の地図は、47の都道府県のどれかのもので、それぞれの都道府県名を漢字で答えなさい。

(1)



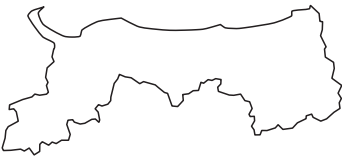
(2)



(3)



(4)



(5)



(6)



(1)		(2)		(3)	
(4)		(5)		(6)	

問題2 答え

- (1) 千葉県 (2) 岩手県 (3) 高知県
(4) 東京都 (5) 和歌山県 (6) 神奈川県