

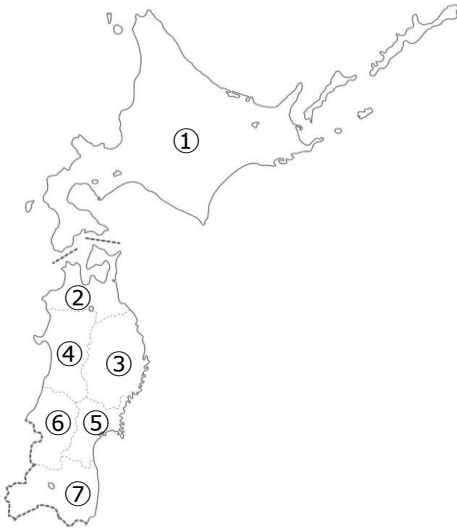
●社会のテストはこの中から出題されます。

●地図に当てはまる都道府県や都道府県庁所在地の名前を選ぶ問題や、説明に当てはまる都道府県を地図から選ぶ問題が出題されます。青色になっているところは必ず出題されます。確実にできるようにしておきましょう。

地方	都道府県名	都道府県庁所在地	地方	都道府県名	都道府県庁所在地	広い都道府県
ほっかいどう 北海道	① 北海道	さっぽろし 札幌市	きんき 近畿	②④ みえけん 三重県	つし 津市	1位 北海道
とうほく 東北	② 青森県	青森市	ちゆうごく 中国	②⑤ しがけん 滋賀県	おおつし 大津市	2位 岩手県
	③ 岩手県	もりおかし 盛岡市		②⑥ 京都府	京都市	3位 福島県
	④ 秋田県	秋田市		②⑦ 奈良県	奈良市	4位 長野県
	⑤ みやぎけん 宮城県	せんだいし 仙台市		②⑧ 和歌山県	和歌山市	5位 新潟県
	⑥ 山形県	山形市		②⑨ 大阪府	大阪市	せまい都道府県
	⑦ 福島県	福島市		③⑩ ひょうごけん 兵庫県	こうべし 神戸市	1位 香川県
	かんとう 関東	⑧ いばらきけん 茨城県		みとし 水戸市	しこく 四国	③① とっとりけん 鳥取県
⑨ とちぎけん 栃木県		うつのみやし 宇都宮市	③② 岡山県	岡山市		3位 東京都
⑩ ぐんまけん 群馬県		まえばしし 前橋市	③③ 島根県	まつえし 松江市		4位 沖縄県
⑪ 千葉県		千葉市	③④ 広島県	広島市		5位 神奈川県
⑫ 埼玉県		さいたま市	③⑤ 山口県	山口市		海に面して いない県
⑬ 東京都		東京	③⑥ かがわけん 香川県	たかまつし 高松市		栃木県
⑭ 神奈川県		横浜市	③⑦ とくしまけん 徳島県	とくしまし 徳島市		埼玉県
ちゆうぶ 中部	⑮ にいがたけん 新潟県	新潟市	きゆうしゆう 九州	③⑧ えひめけん 愛媛県	まつやまし 松山市	群馬県
	⑯ 富山県	富山市		③⑨ 高知県	高知市	山梨県
	⑰ 石川県	金沢市		④① ふくおかけん 福岡県	福岡市	長野県
	⑱ 福井県	福井市		④② さがけん 佐賀県	佐賀市	岐阜県
	⑲ やまなしけん 山梨県	こうふし 甲府市		④③ ながさきけん 長崎県	長崎市	滋賀県
	⑳ 静岡県	静岡市		④④ おおいたけん 大分県	大分市	奈良県
	㉑ 長野県	長野市		④⑤ くもとけん 熊本県	熊本市	
	㉒ ぎふけん 岐阜県	岐阜市		④⑥ 宮崎県	宮崎市	
	㉓ 愛知県	名古屋市		④⑦ かがしまけん 鹿児島県	鹿児島市	
					④⑧ 沖縄県	なはし 那覇市

☆地図を使って練習しよう!

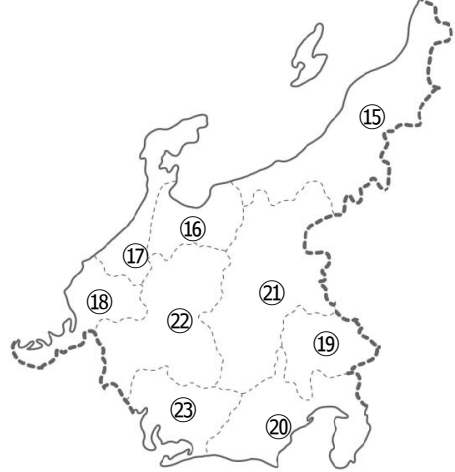
北海道・東北地方



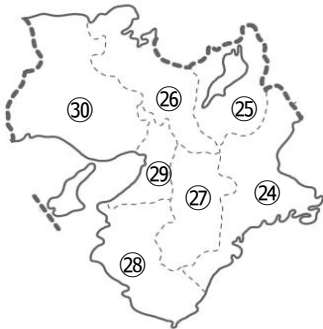
関東地方



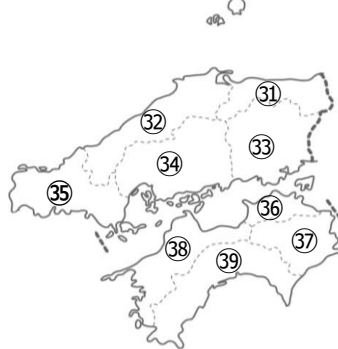
中部地方



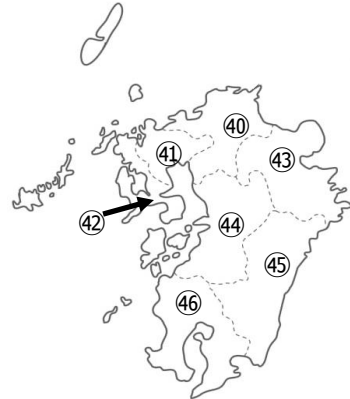
近畿地方



中国・四国地方



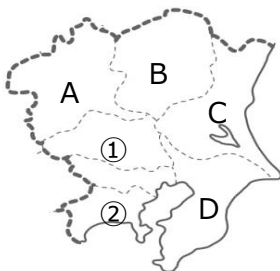
九州地方



※地方ごとにちぢめた割合がちがうので、都道府県の大きさは正確ではありません



<例題>



☆このような問題をとけるようにしておきましょう!

- (1) 地図中の①の都道府県名を次の中から選び、記号で答えなさい
ア 茨城県 イ 埼玉県 ウ 栃木県 エ 群馬県
- (2) 地図中の②の県の県庁所在地を次の中から選び、記号で答えなさい
ア 川崎市 かわさき イ 相模原市 さがみはら ウ 横浜市 エ 鎌倉市 かまくら
- (3) 茨城県を地図中のA~Dから選び、記号で答えなさい

こんな学習方法もあります

- ◎自分の部屋・リビングなどに地図をはって、毎日ながめます。
- ◎スマホやタブレットのアプリで楽しみながら勉強できます。保護者の方のおゆるしをもらって、ぜひやってみてください。



都道府県 無料 アプリ