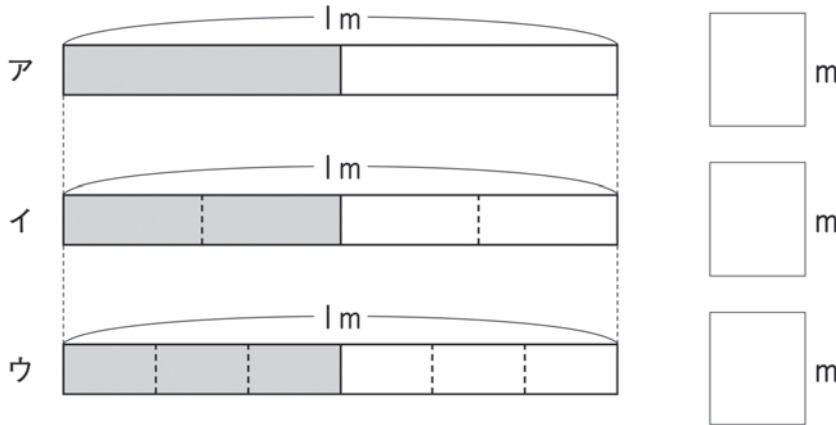


1 下のテープ図ア～ウについて、かげをつけた長さは何mですか。




2 1のテープ図を見て、にあてはまる数やことばを書きましょう。

ア、イ、ウのかげをつけた長さをみると、すべて1mを① にした長さになっています。アの長さは、② mだから、イとウの長さも② mと表すことができます。

同じところはないかを考えてみよう!



3 2で考えたことをもとにして、下のテープ図の $\frac{1}{3}$, $\frac{2}{6}$, $\frac{3}{9}$ の大きさにそれぞれ色をぬりましょう。また、にはいる分数を答えましょう。

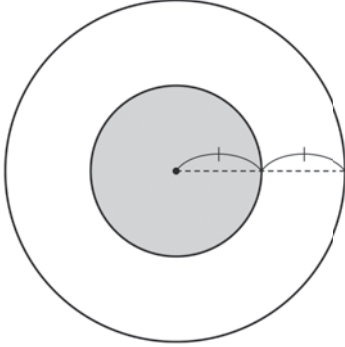


にはいる分数

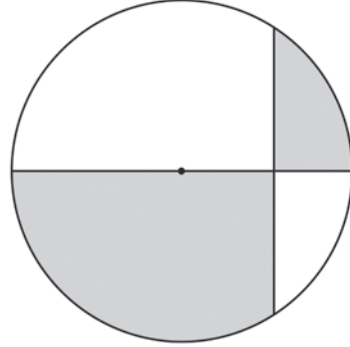
算数パズルにちょうせん!

1 次の図の中から、色をつけた部分が、形全体の $\frac{1}{2}$ になっているものを全部さがして、記号で答えましょう。

ア

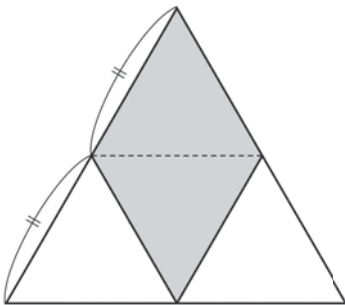


イ

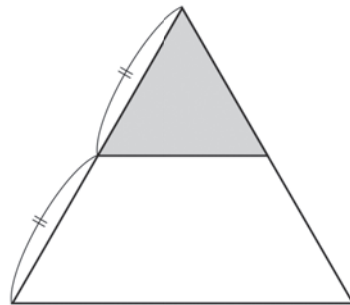


⊥ は、長さが等しいことを表しています。

ウ

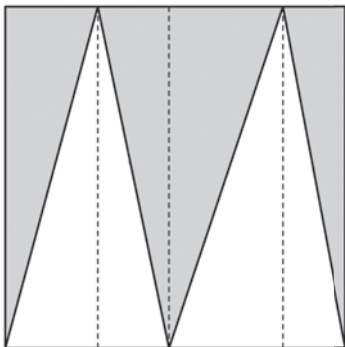


エ

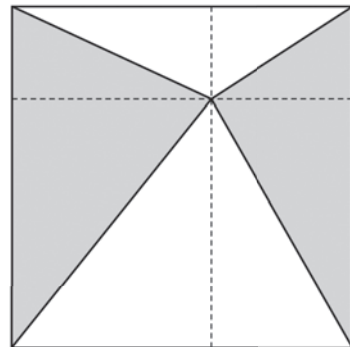


⊥ は、長さが等しいことを表しています。

オ



カ



点線を手がかりにして考えるといいよ。



答え

