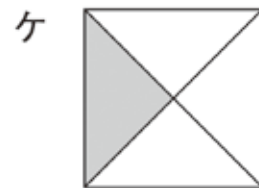
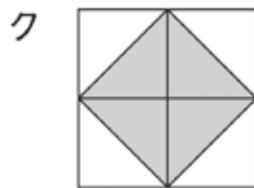

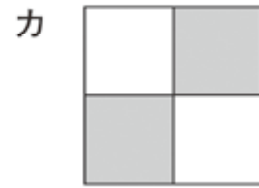
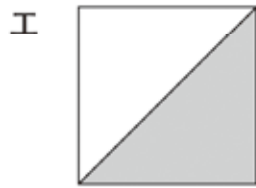
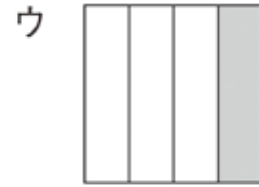
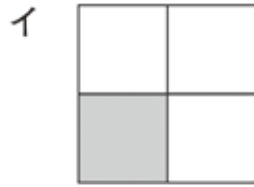
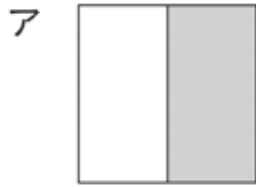


かんが 考える力をつけよう

1 おり紙<sup>がみ</sup>をおって、色<sup>いろ</sup>をぬりました。



(1)  $\frac{1}{2}$ の大きさに色をぬってあるのは、どれですか。ぜんぶえらんで、きごうを書きましょう。

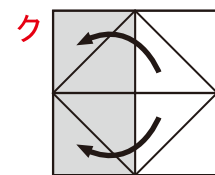
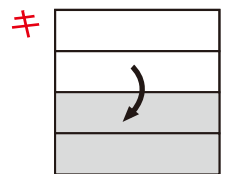
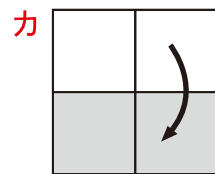
ア・エ・オ・カ・キ・ク

(2)  $\frac{1}{4}$ の大きさに色をぬってあるのは、どれですか。ぜんぶえらんで、きごうを書きましょう。

イ・ウ・ケ

【考え方】

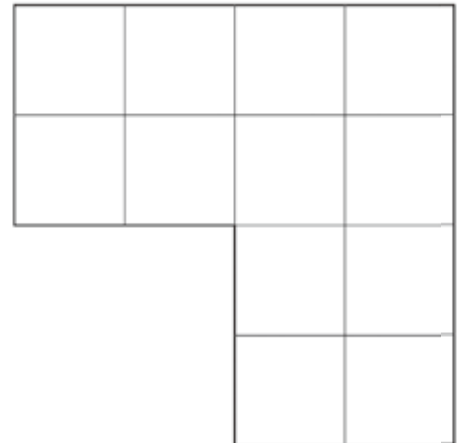
(1) 色をぬってあるぶぶんをうごかして考えます。



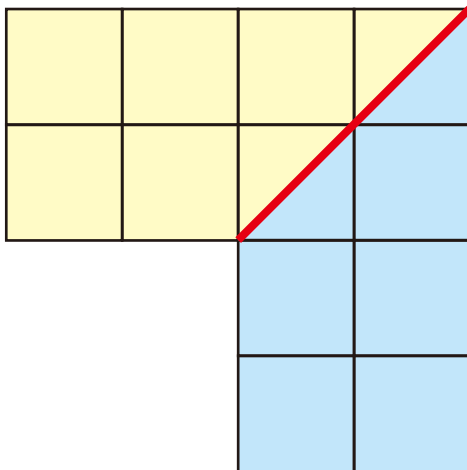
# 算数パズルにちょうせん!

右のような、同じマスが12こあつまってできた形があります。

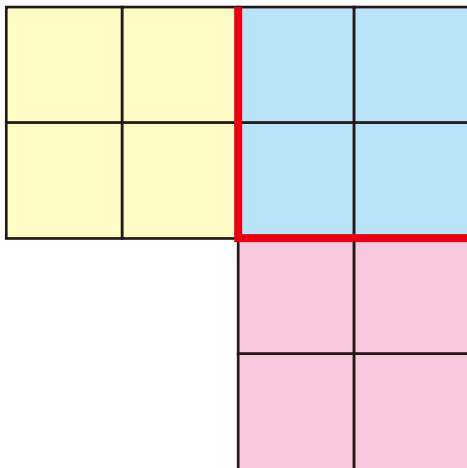
この形を、同じ大きさで同じ形になるように、いくつかに分けてみましょう。  
線にそって分けるひつようはありません。



(1) 2つに分ける線をかきましょう。



(2) 3つに分ける線をかきましょう。



(3) 4つに分ける線をかきましょう。

