


1 おり紙^{がみ}をおって、色^{いろ}をぬりました。

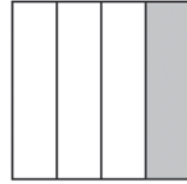
ア



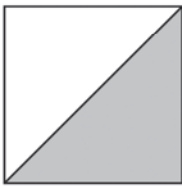
イ



ウ



エ



オ



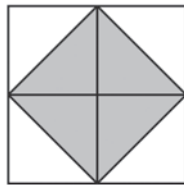
カ



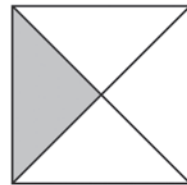
キ



ク



ケ



(1) $\frac{1}{2}$ の大きさに色をぬってあるのは、どれですか。ぜんぶえらんで、きごう^かを書きましょう。

(2) $\frac{1}{4}$ の大きさに色をぬってあるのは、どれですか。ぜんぶえらんで、きごう^かを書きましょう。

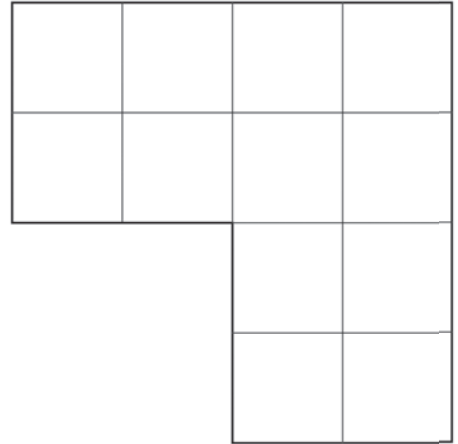
色をぬってあるぶぶんをうごかして考えてみよう



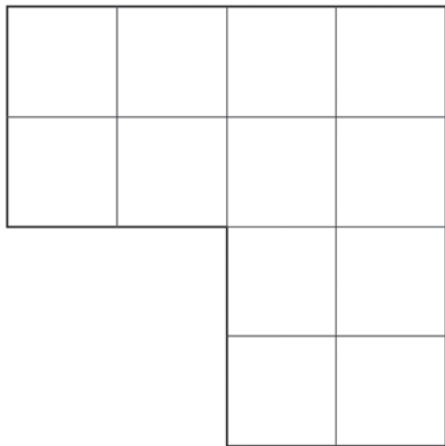
算数パズルにちょうせん!

右のような、同じマスが12こあつまってできた形があります。

この形を、同じ大きさで同じ形になるように、いくつかに分けてみましょう。
線にそって分けるひつようはありません。



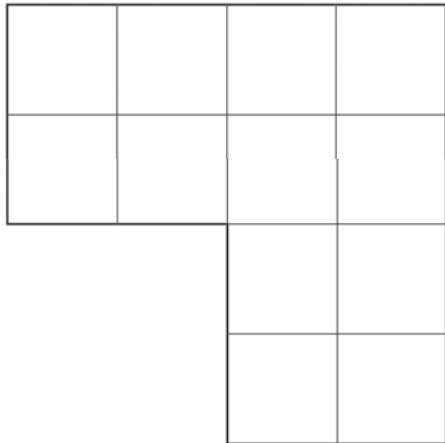
(1) 2つに分ける線をかきましょう。



これは、線にそって分けなくても良さそうだな。



(2) 3つに分ける線をかきましょう。



(3) 4つに分ける線をかきましょう。

