




さんすうパズルにちょうせん!

つぎの ずは まほうじんと よばれる
ふしぎな ずです。1から 9までの
すうじが マスに はいって います。




2	9	4
7	5	3
6	1	8

どこが ふしぎ なのでしょう。

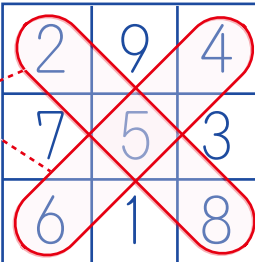
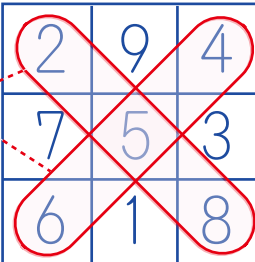
よこに ならんだ すうじを たすと どうなるでしょう。

$2+9+4=$ 15 ← 
 $7+5+3=$ 15 ← 
 $6+1+8=$ 15 ← 

こんどは たてに ならんだ すうじを たしましょう。

$4+3+8=$ 15 ← 
 $9+5+1=$ 15 ← 
 $2+7+6=$ 15 ← 

さいごに ななめに ならんだ すうじを たします。

$4+5+6=$ 15 ← 
 $2+5+8=$ 15 ← 

ふしぎな ところ

たて、よこ、ななめ、どの向きで
すうじを たしても、15になる。