

はってんもんだい


16人 ならんだ れつが あります。

- (1) ゆいさんは 左から 11 ばんめです。
 さきさんは 左から 4 ばんめです。
 ゆいさんは さきさんの 右 なんばんめですか。

図や しきを かいて かんがえましょう。

(しき) $11 - 4 = 7$ 7 ばんめ

【考え方】



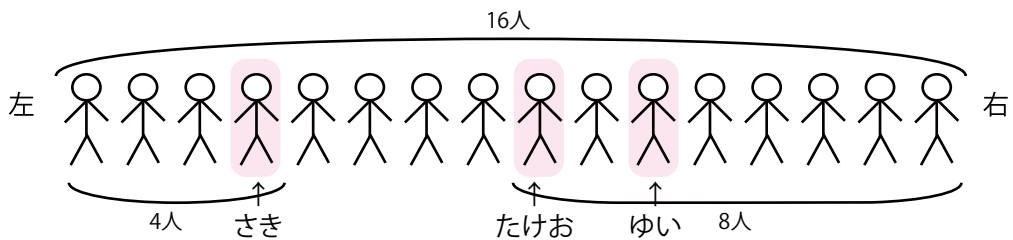
- (2) たけおさんは 右から 8 ばんめです。
 たけおさんと さきさんの あいだに なん人 いますか。
 また ゆいさんは たけおさんの 右 なんばんめですか。

図や しきを かいて かんがえましょう。

(しき) $16 - 4 - 8 = 4$ たけおさんと さきさんの あいだ 4 人

(しき) $16 - 8 + 1 = 9$ $11 - 9 = 2$ ゆいさんは たけおさんの 右 2 ばんめ

【考え方】



$16 - 4 - 8 = 4$ たけおさんとさきさんの間は4人です。
 $11 - 9 = 2$ ゆいさんはたけおさんの右2番目です。

算数パズルにちょうせん!

よしおくん わるおくん ぼんちゃんと えりさんが います。

よしおくんは いつも ほんとうの ことを いいます。

わるおくんは いつも うそを つきます。

ぼんちゃんは ほんとうのことを いう こともあれば うそを つく こと
も あります。

3にんの うちの だれかが ちいさな こえで





「ぼくは うそを つくよ。」

と いいました。

えりさんは だれが いったか わかりました。

あなたは わかりますか。

(ぼんちゃん)



【考え方】

よしおくんは「うそをつきません」。

わるおくんは「うそをつきます」。しかし「うそをつくよ。」という、ほんとうのことをいったことになります。

だからわるおくんは「うそをつくよ。」とはいいません。